





**LATIHAN SOAL TIK UKK KELAS 8
SEMESTER GENAP
TAHUN PELAJARAN 2010 / 2011**


1. Berikut ini merupakan program pengolah angka adalah
 - A. Microsoft Excel
 - B. Foxit Reader
 - C. Microsoft Outlook
 - D. Microsoft Power Point
2. Setiap lembar kerja Microsoft Excel terdapat baris (*row*)
 - A. 256
 - B. 556
 - C. 26565
 - D. 65536

3. Ikon yang berfungsi sebagai rata kiri dan kanan adalah:

- A. 
- B. 
- C. 
- D. 

4. Persinggungan antara kolom dan baris disebut
 - A. Kolom
 - B. Cell
 - C. Range
 - D. Row

5. Untuk menggabungkan cell, kita dapat menggunakan ikon

- A. 
- B. 
- C. 
- D. 

6. Menu berikut yang *tidak* terdapat pada Microsoft Excel adalah
 - A. File
 - B. View
 - C. Table
 - D. Help

7. Perhatikan langkah-langkah berikut!

1. Klik menu insert
2. Klik Height
3. Klik Rows
4. Isi tinggi baris (*Row Height*)

Langkah-langkah tersebut yang diperlukan untuk menyisipkan baris adalah...

- A. 1 dan 2
- B. 1 dan 3

- C. 2 dan 3
- D. 3 dan 4

8. Untuk memindahkan isi sel dari sel tertentu ke sel lain dapat dilakukan dengan klik atau drag sel yang akan dipindahkan, klik ikon tempatkan kursor atau klik mouse disel tujuan, klik ikon...
- A. Move, paste
 - B. Copy, paste
 - C. Cut, paste
 - D. Cut, bold
9. Langkah-langkah untuk mengurutkan data dari huruf A sampai Z, adalah
- A. Edit, Object
 - B. Data, Sort
 - C. Edit, Go to
 - D. Tools, Spelling
10. Untuk mengatur tampilan data agar menjadi rata kiri, kanan, tengah dan kiri kanan sel yaitu...
- A. Format, Cells, Border
 - B. Format, Cells, Font
 - C. Format, Cells, Alignment
 - D. Format, Cells, Number
11. WrapText yang terdapat dalam kotak dialog *FormatCells* pada tab *Alignment* berfungsi untuk...
- A. Mengatur data pada suatu sel ditampilkan dengan ukuran menjadi lebih kecil
 - B. Menggabungkan beberapa sel menjadi satu sel
 - C. Mengatur data pada suatu sel dengan pelipatan kebawah pada sel yang sama
 - D. Mengatur data pada suatu sel dengan pelipatan kebawah pada sel yang berbeda
12. Sebuah deretan memanjang yang dilambangkan dengan karakter lafabet A sampai Z disebut...
- A. Icon
 - B. Menu
 - C. Row
 - D. Column
13. Kegunaan dari *Autofill* adalah...
- A. Menambahkan sel, kolom dan baris
 - B. Memasukkan data dengan cepat
 - C. Merubah kemiringan teks
 - D. Menyambung beberapa sel

Untuk Menjawab soal no 14-38 perhatikan gambar ini!

tabel perkalian	4	5
2	=A6*\$B\$5	
3		
4		

14. Berapakah nilai yang dihasilkan dari rumus dibawah ini?
- A. 2
 - B. 4
 - C. 6
 - D. 8
15. Yang dimaksud dengan formula adalah...
- A. Mendapatkan nilai rata-rata
 - B. Rumus siap pakai yang digunakan sebagai alat untuk membantu proses perhitungan.
 - C. Bentuk perhitungan , seperti menjumlahkan, mengurangkan, mengalikan dan membagikan
 - D. Menghitung banyak data
16. Yang termasuk dalam fungsi statistik dasar, *kecuali*
- A. COUNTIF
 - B. SUM
 - C. MAX
 - D. MIN

Untuk menjawab soal no 17 – 41 perhatikan gambar ini

	A	B	C
1	TOKO BUAH SEGAR		
2			
3	1 Kg =	Rp 15.000,00	
4			
5	Nama buah	Berat (Kg)	Total Pembelian
6	Apel	10	150.000
7	Jeruk	20	300.000
8	Anggur	30	450.000
9	Salak	20	300.000
10			
11	Total		1.200.000
12			

17. Total pembelian pada tabel dibawah ini dihitung menggunakan ...
- Fungsi SUM
 - Fungsi If
 - Nilai Absolut
 - Fungsi Count

Untuk menjawab soal no18 – 19 - 42- 43 perhatikan gambar ini

	A	B	C	D	E	F	G	
1	DAFTAR NILAI SISWA							
2	SEMESTER GANJIL 2010/2011							
3	SMP NEGERI 15 BANDUNG							
4								
5	MATA PELAJARAN	: TIK						
6	KELAS	: VIII						
7								
8					NILAI			
9	NO	NAMA	TUGAS 1	TUGAS 2	ANGKA	HURUF	KETERANGAN	
10	1	Ari Sardis	90	75	82,5	A	SANGAT BAIK	
11	2	Aulia Rahman	50	60	55	C	CUKUP	
12	3	Dwi Nur Lestari	85	45	65	B	BAIK	
13	4	Fauzi Rahman	90	80	85	A	SANGAT BAIK	
14	5	Irfan Nulhakim	55	60	57,5	C	CUKUP	
15								
16	Jumlah siswa yang mendapatkan nilai A:					2		
17	Jumlah siswa yang mendapatkan nilai B:					1		
18	Jumlah siswa yang mendapatkan nilai C:					2		
19								

18. Untuk menentukan nilai huruf anak yang bernama Ari sardi menggunakan rumus....
- = sumif(e10 <65; "C"; (e10 <85; "B"; e10 >85; "A");))
 - = if(e10 <65; "C"; (e10 <85; "B"; e10 >85; "A"))
 - = sumif (e10 <65; "C"; (e10 <85; "B"; "A");)
 - = if(e10 <65; "C"; (e10 <85; "B"; "A"))
19. Untuk mengetahui total anak yang mendapatkan nilai A, maka menggunakan rumus..
- =countif(e10 : e14 ; "A")
 - =countif(e10 - e14 ; "A")
 - =countif(F10 : F14 ; "A")
 - =countif(F10 - F14 ; "A")
20. Rumus =average (B7:B11) berfungsi untuk menjumlahkan nilai....
- Terbesar
 - Terkecil
 - Rata-rata
 - Banyak data
21. Yang dibawah ini termasuk fungsi logika, adalah...
- IF
 - Sum
 - Count
 - Average
22. Fungsi Max untuk...
- Mendapatkan nilai tertinggi
 - Mendapatkan nilai terendah
 - Mendapatkan nilai rata-rata
 - Menghitung banyak data
23. Dua pilihan penyimpanan lembar kerja yang disediakan Excel adalah..

- A. Save dan Save As
- B. Save dan Import

- C. Save dan Save File
- D. Save dan Save to

24. Unprotect sheet digunakan untuk ...

- A. Membuka Password
- B. Membuka Proteksi

- C. Mengunci Sel
- D. Membatalkan penguncian

25. Tab worksheet terletak dibagian bawah sejajar dengan..

- A. Status bar
- B. Scroll Bar horizontal

- C. Scroll bar vertikal
- D. Title bar

26. Ikon yang digunakan untuk membuat lembar kerja baru adalah



C



D.



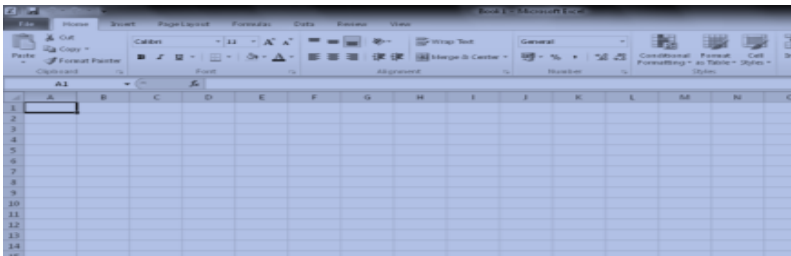
27. Tampilan berikut dinamakan



- A. Toolbar
- B. Shortcut

- C. Title
- D. Menu

28. Program manakah yang mempunyai lembar kerja sebagai berikut:



- A. Microsoft Acces
- B. Microsoft Excel

- C. Microsoft Power Point
- D. Microsoft Word

29. Shorcut yang digunakan untuk membuka dokumen adalah

- A. Ctrl + O
- B. Ctrl + T

- C. Ctrl + P
- D. Ctrl+S

30. Berikut ini adalah beberapa ikon yang terdapat pada toolbar yang diberi nomor

- 1. Line
- 2. Oval
- 3. Print
- 4. Save

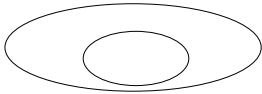
Ikon yang terdapat pada toolbar standar yang diberi nomor...

- A. 1 dan 2
- B. 1 dan 3
- C. 2 dan 3
- D. 3 dan 4

31. Perintah melalui menu Help, Show the Office Assistant berfungsi untuk ...

- A. Menampilkan menu Help
- B. Menyembunyikan Office Assistant
- C. Menampilkan Office Assistant
- D. Menghapus Office Assistant

32. Tampilan berikut dibuat dengan menggunakan....

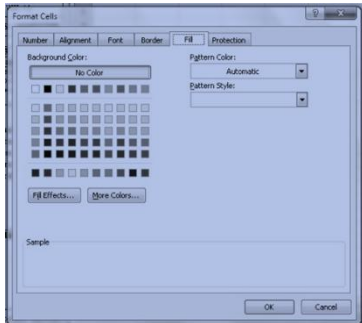


- A. Autoshapes
- B. Spiral
- C. Oval
- D. Bold

33. Untuk mengganti jenis huruf tidak melalui ikon maka langkah awal yang perlu dilakukan antara lain dengan melakukan perintah klik...

- A. File, Cells
- B. Format, Cells
- C. Edit, replace
- D. Format, style

34. Tampilan berikut muncul ketika akan



- A. Memberi warna Cell
- B. Melebarkan kolom
- C. Meningkatkan baris
- D. Menyisipkan WordArt

35. Untuk melindungi lembar kerja agar tidak dengan mudah diubah oleh orang lain yaitu dengan menggunakan...

- A. Tools
- B. Protection
- C. Protect Sheet
- D. Password

36. 1. *Insert*
2. *Format*
3. *Toolbar*
4. *Italic*

Yang termasuk baris menu adalah...

- A. 1, 2
- B. 1, 3
- C. 2, 3
- D. 3, 4

37. Untuk mengatur bentuk dan arah tanda panah digunakan menu...

- A. Line Style
- B. Dash Style
- C. Arrow Style
- D. Shadow Style

38. Rumus apakah yang digunakan tabel dibawah ini?

- A. Nilai Absolut
- B. Perkalian
- C. Average
- D. Pembagian

39. Yang berfungsi untuk menjumlahkan isi sel adalah...

- A. SUM
- B. COUNT
- C. MIN
- D. MAX

40. Nama lain dari lembar kerja pada Microsoft Excel adalah...

- A. Workbook
- B. WordArt
- C. Word Processor
- D. Workshhet

41. Untuk menghitung total pembelian buah apel seberat 10 Kg dengan cara...

- A. = B6 * B3
- B. = B6 * \$B\$4
- C. = B6 * C6
- D. = B6 * B6

42. Untuk menghitung nilai angka anak yang bernama Aulia Rahman menggunakan rumus..

- A. = B11 * 50 / 100 + B11 * 50 / 100
- B. = B11 * 50 / 100 + C11 * 50 / 100
- C. = C11 * 50 / 100 + C11 * 50 / 100
- D. = C11 * 50 / 100 + D11 * 50 / 100

43. Untuk menentukan nilai pada Keterangan dengan anak yang bernama Irfan Nulhakim menggunakan rumus....

- A. =sumif (e14 <65; "CUKUP"; (e14 <85; "BAIK"; "AMAT BAIK";))
- B. =if(e14 <65; "CUKUP"; (e14 <85; "BAIK"; "AMAT BAIK";))
- C. = sumif(e14 <65; "CUKUP"; (e14 <85; "BAIK"; e14 >85; "AMAT BAIK";))
- D. =if(e14 <65; "CUKUP"; (e14 <85; "BAIK"; e14 >85; "AMAT BAIK";))

44. Yang dimaksud dengan fungsi Sumif adalah ...

- A. Menjumlahkan isi sel berdasarkan kriteria
- B. Nilai yang tidak bisa ditukar
- C. Menjumlahkan banyak data berdasarkan kriteria
- D. Mengambil nilai dari tabel yang lain

45. Fungsi format currency dalam memformat bilangan pada lembar kerja adalah untuk menambah simbol...

- A. Mata Uang
- B. Matematika
- C. Dollar
- D. Fisika

46. Rumus siap pakai dalam microsoft excel untuk perhitungan secara otomatis disebut...

- A. Sum
- B. Function
- C. Autosum
- D. Formula

47. Tombol F4 dipakai untuk..

- A. Mengulang data
- B. Mengulang perintah
- C. Memberikan nilai absolut
- D. Mengeluarkan program

48. Fungsi yang digunakan untuk menghitung jumlah pegawai adalah...

- A. Sum
- B. Average
- C. Max
- D. Count

49. Penggunaan formula atau rumus selalu diawali dengan tanda..

- A. <
- B. >
- C. =
- D. #

50. Berikut ini berhubungan dengan langkah menghapus baris, kecuali...

- A. Edit
- B. Delete
- C. Entire Row
- D. Row Height

